

سلطنة عمان  
وزارة التربية والتعليم  
مدرسة الثقافة للتعليم الاساسي للصفوف (٤-١)  
أختبار قصير (٣) في مادة الرياضيات للصف الثالث

الصف : ثالث/.....

اسم العبقري.....

معرفة وفهم : ٧ درجات  
اختياري

( ٣ درجات )

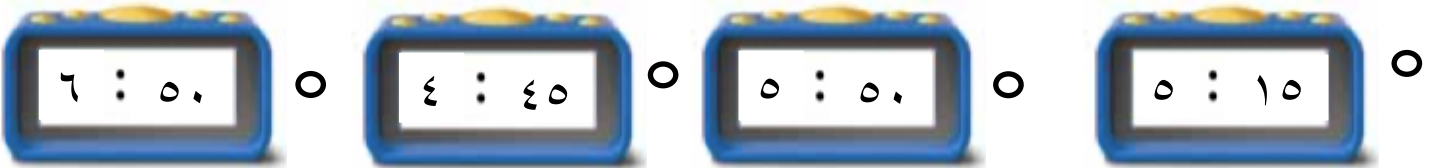
١- العدد الذي يقرب إلى ٨٠ عند تقريبه لأقرب عشرة هو :

٨٥ ○      ٨٩ ○      ٧٨ ○      ٨٦ ○

٢- ٢٦ × ١٠ :

٢٦٠٠ ○      ٢٦٠ ○      ٢٦ ○      ٦٢٠ ○

٣- الساعة الرقمية التي تمثل الساعة الخامسة لإربع هي :



(درجة)

ترتيب


٤- لدى أسالم ٤ بطاقات أعداد أراد أن يرتبها من الأكبر إلى الأصغر ، ساعد سالم في ترتيب البطاقات بالترتيب الصحيح

٩١٠

٣٦٥


٥٠٥

٣٤٢



٥- عند تقريب العدد ٢٦٨ لأقرب ١٠٠ يعطي العدد .....

٦- الوقت التي سيظهر في الساعة الرقمية عندما تكون الساعة الثامنة والرابع هو :



٧- قارن بين العددين التاليين بوضع الإشارة المناسبة :

٩٧      ٤٥

حل مشكلات : ٣ درجات

١- أراد أحمد أن يعرف الوقت من خلال الساعة الرقمية ولكنه وجد أن عقرب الدقائق قد سقط من الساعة ، ساعد أحمد في معرفة الموقع الصحيح لعقرب الدقائق



٢- إذا كان الصندوق الواحد يحتوي على ١٠ حبات فراولة ، فكم عدد حبات الفراولة في ٦ صناديق ؟

٣- زارت ريم صديقتها سعاد عند الساعة ١:١٥ وإستغرقت زيارتها ٢:١٠ ، في أي ساعة غادرت ريم منزل صديقتها ؟